

演習 (1)

1. 次の各項に問題点があれば指摘せよ。

- (a) 世論調査のため、「あなたは、『公共事業へのこれ以上の投資は、財政への影響が深刻なので取りやめるべきである』と思いますか」というアンケートを行った。
- (b) 宣告が 70% 当たる占い師と 10% しか当たらない占い師とでは、70% 当たる占い師のほうが、どんな問題に対しても常に信用できる。
- (c) 「同量の紅茶葉とコーヒー豆では、紅茶のほうがカフェインの含有量が多い」のが事実であれば、カフェインの摂取量を制限する必要がある場合は、どちらかといえば紅茶よりもコーヒーを飲むほうがよい。
- (d) A 社の電球の平均寿命は、B 社の電球の平均寿命よりも長い。したがって、価格等他の条件が同じなら、どんな場合でも A 社の電球を使うのがよい。
- (e) 全国の都道府県について、死亡率と婚姻率(それぞれ、人口 1000 人あたりの死亡・婚姻の数)を調べたところ、死亡率と婚姻率には負の相関があることがわかった。したがって、人の死亡と婚姻には何らかの因果関係があるものと考えられる。

2. 次の各問に答えよ。

- (a) 「日本では、たばこを 1 日に 20 本吸う人は、1 本も吸わない人に比べて 10 倍肺がんで死亡しやすい」という、統計から導かれた事実がある。このとき、「1 日に 20 本のたばこを吸うことがどのくらい危険か」を述べるには、他にどのようなデータとどのような推論が必要かを説明せよ。
- (b) 相関分析における、相関の「正負」「強弱」の意味を説明せよ。
- (c) 線形単回帰における決定係数の意味を、「分散を説明する」という言葉を使って説明せよ。

3. 2019 年 6 月 3 日付日本経済新聞の記事

<https://www.nikkei.com/article/DGXKZ045591500S9A600C1NN1000/>

にあるグラフを見て(講義ウェブサイトからリンクしてあります)、その問題点を指摘せよ。

4. 図 1 は、ある件についての満足度を「5: 大変満足」～「1: 大変不満」の 5 段階評価で調査した結果をまとめたグラフである(単位: 人)。このグラフの問題点を指摘せよ。

5. 表 1 は、ある病気の検査法について、その有効性を試験した結果である。

- (a) この検査法の感度と特異度を求めよ。
- (b) 検査法の優劣を評価するのに、感度だけではなく特異度も考慮しなければならない理由を説明せよ。

6. 5 人の生徒に英語と数学の試験を実施した。各生徒の得点は、(英語の点数, 数学の点数) の形で表すと、それぞれ (50, 60), (55, 55), (70, 75), (75, 90), (80, 80) であった。

- (a) 回帰直線を求め、各生徒の得点とともに散布図に表わせ。
- (b) 決定係数を求めよ。さらに、決定係数と回帰直線の関係を、本問を例にとって説明せよ。

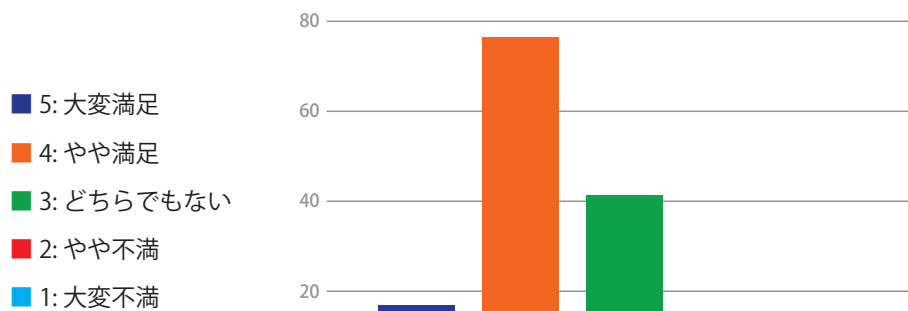


図 1: 問題 4 の図

表 1: 問題 5 の表 (単位: 人)

	本当に病気である	本当は病気ではない
検査で陽性	9,000	1,000
検査で陰性	1,000	19,000

解答例

1.

- (a) 「『公共事業へのこれ以上の投資は、財政への影響が深刻である』と思いますか」という質問と、「『公共事業へのこれ以上の投資は取りやめるべきである』と思いますか」という質問の、2つの質問がひとつに交じり合っている。いわゆるダブルバレル質問である。問題のような質問では、「公共事業へのこれ以上の投資は財政への影響が深刻であるが、それでも実施すべきである」「公共事業へのこれ以上の投資は、財政への影響はあまりないが、それでも実施すべきではない」という意見の持ち主は、回答することができない。
- (b) 問題が二者択一で答えられるものならば、「10%しか当たらない占い師」が告げたほうとは逆の選択肢を選べば90%当たっていることになり、「70%当たる占い師」が告げた選択肢よりも当たっている確率は大きい。
- (c) 葉や豆を直接食べるのではなく、淹れて飲むわけだから、同量の葉・豆を比較しても意味はなく、淹れた後の同量の液を比べなければならない。通常、紅茶の液はコーヒーの液よりもずっと薄い。
- (d) 電球の用途が、例えば家庭の電灯のように「切れたらその時点で取り換える」ようなものなら、平均寿命が長いほうの電球を選べばよい。しかし、交通信号機のように、常時使用し続けなければならない、故障の許されない装置の場合は、故障するよりも前に、ある期間ごとにいっせいに電球を交換するほうが安全である。この場合は、平均寿命よりも「最短保証寿命」が長い電球を選ぶほうが有利である。もし、A社の電球の寿命の分散が大きく、B社の電球の寿命の分散が小さいならば、最短保証寿命はB社の電球のほうが長いこともありうる。
- (e) 「死亡率と婚姻率の相関関係」と「死亡と婚姻の因果関係」は別のものである。また、この相関関係は「みかけ上の相関関係」であり、実際には、死亡率の高い県は高齢化が進み若年人口が少ないので婚姻率が低い、と考えられる。

2. (a) 「日本で肺がんで死亡する人が、1年間に何人いるか」のデータが必要である。もし、日本で1年間に肺がんで死亡する人が「たばこを吸わない人1人、たばこを1日に20本吸う人10人」なのであれば、肺がんによる死亡はきわめて珍しいということになり、他の病気への対策をとるほうが、国民の健康の向上に効果的である。もし、日本で1年間に肺がんで死亡する人が「たばこを吸わない人10万人、たばこを1日に20本吸う人100万人」なのであれば、肺がんによる死亡はきわめて重大な問題であり、たばこを禁止すれば死亡者数を大きく減らすことができる。
- (b) 変量 X と変量 Y の相関を考えるとき、 X が大きい個体では Y も大きいという傾向があることを「正の相関」といい、 X が大きい個体では Y は小さいという傾向があることを「負の相関」という。また、その傾向が明確で、散布図上で個体を表す点が一直線に近い形状に分布している場合は「強い相関」といい、その傾向が明確でなく、散布図上で個体を表す点が一直線状ではなく広がりをもって分布している場合は「弱い相関」という。
 - (c) 変量 X から変量 Y への回帰を考えるとき、 X と Y の決定係数は、もとの Y の分散に比べて回帰直線に対しての Y のばらつきがどれだけ減少しているか、を表している。例えば、決定係数が0.7であれば、もとの Y の分散のうち70%は、線形単回帰モデルをあてはめることで「ただ単にばらついているのではなく、回帰直線上に並んでいる」という説明ができる、という意味になる。

3.
 - 1) グラフで示されている「0.5万円程度の増加」は、有効な増加なのか、よくわからない。それにもかかわらず、縦軸の下端をゼロにしないこともあわせて、変化が大きく誇張されている。
 - 2) 時間に伴う変化を示すときは、折れ線グラフの方が、変化をたどることを表現できるので適切である。
4.
 - 1) 満足度が高いほど数字が大きいことから、グラフでは「5: 大変満足」を右端、「1: 大変不満」を左端に配置するほうが、直観的に読み取れる。
 - 2) 色の使い方が満足度と関連していない。満足度が上がるにつれて寒色から暖色になっていく、のような工夫が必要である。
 - 3) 人によっては色による区別がしにくい場合もあるので、棒グラフの棒の下に満足度の数字を書いておくほうがのぞましい。
5.
 - (a) 感度は「本当に病気の人のうち、検査で陽性となった人の割合」で、 $9000/(9000+1000) = 0.9$ である。また、特異度は「本当は病気でない人のうち、検査で陰性となった人の割合」で、 $19000/(1000+19000) = 0.95$ である。
 - (b) 感度だけを高くすればよいのであれば、検査をせずにすべての被験者を陽性とすれば、感度は1すなわち100%となる。しかし、そのような検査には意味はなく、「本当は病気でない人」を正しく陰性と判定する（誤って陽性としない）ことも、検査の重要な能力である。したがって、すぐれた検査であるためには、感度だけでなく特異度も高くなくてはならない。
6.
 - (a) 英語の点数を x 、数学の点数を y で表し、生徒数を n とする。 i 番目の受験者の点数を (x_i, y_i) とし、 x, y の平均をそれぞれ \bar{x}, \bar{y} 、 x の分散を σ_x^2 、 x, y の共分散を σ_{xy} として、表 A1 の通り計算すると、 $n = 5$ 、 $\bar{x} = 66$ 、 $\bar{y} = 72$ 、 $\sigma_{xy} = 665/5 = 133$ 、 $\sigma_x^2 = 670/5 = 134$ であるから、回帰方程式を $y = a + bx$ とすると

$$b = \frac{133}{134} = 0.993, a = 72 - 0.993 \cdot 66 = 6.46$$
 となる。散布図と回帰直線は図 A2 の通りである。

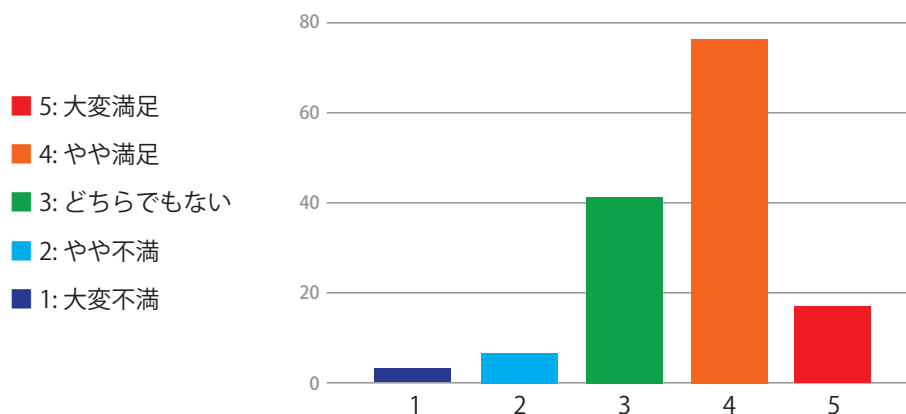


図 A1: 問題 4 の図

(解説) 回帰直線のグラフを描くためには、直線がどこを通るかを確かめてみます。 $x = 50$ を回帰方程式 $y = 6.46 + 0.993x$ に代入すると、 $y = 56.11$ となりますから、回帰直線は $(50, 56.11)$ を通ります。

先に散布図を描いておいて、回帰直線がだいたいどんな感じかの見当をつけておきましょう。計算で回帰直線を求めた後で、その計算が間違っていないかどうか確かめることができます。

- (b) 表のように計算すると、相関係数 r は $r = \frac{665}{\sqrt{670}\sqrt{830}} = 0.892$ となり、決定係数 $r^2 = 0.796$ となる。このことは、数学の点数の分布を、「数学の点数は英語の点数から回帰方程式によって推定できる」と表すことで、もとの数学の点数の分散の 79.6% が説明できることを示している。

表 A1: 問題 6 の表

生徒	英語 x	数学 y	$(x - \bar{x})^2$	$(y - \bar{y})^2$	$(x - \bar{x})(y - \bar{y})$
1	50	60	256	144	192
2	55	55	121	289	187
3	70	75	16	9	12
4	75	90	81	324	162
5	80	80	196	64	112
	\bar{x}	\bar{y}	計	計	計
	66	72	670	830	665

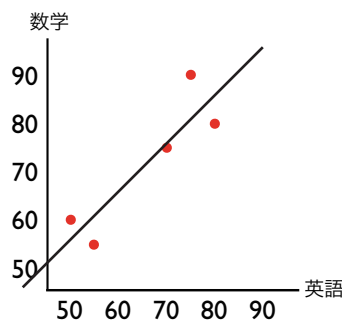


図 A2: 問題 6 : 散布図と回帰直線